

Hizkuntzen erabilera Euskal Herrian

❖ Aztertu kontu handiz ondoko taula eta sektore-diagramak.

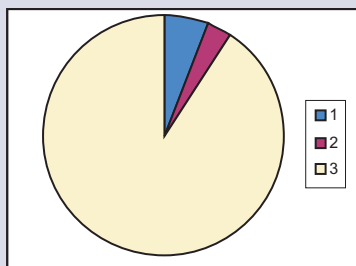
Hizkuntza-gaitasuna, lehen hizkuntzaren, hizkuntza-eremuen eta sexuaren arabera (% bertikala). 2006

| | Euskal Herria | | | Euskal AE | | | Nafarroa | | | Iparraldea | | |
|---|---------------|--------------|--------------|--------------|--------------|--------------|--------------|------------|------------|--------------|------------|--------------|
| | Guztira | Gizonak | Emakumeak | Guztira | Gizonak | Emakumeak | Guztira | Gizonak | Emakumeak | Guztira | Gizonak | Emakumeak |
| Laginaren tamaina (balio absolutuak) | 7.185 | 3.496 | 3.689 | 3.599 | 1.760 | 1.839 | 1.587 | 784 | 803 | 1.999 | 952 | 1.047 |
| GUZTIRA (%) | 100 | 100 | 100 | 100 | 100 | 100 | 100 | 100 | 100 | 100 | 100 | 100 |
| LEHENENGO HIZKUNTZA: | | | | | | | | | | | | |
| Euskara | 17 | 16 | 17 | 19 | 18 | 19 | 6 | 6 | 6 | 22 | 21 | 22 |
| Euskara eta Erdara (gaztelania/frantsesa) | 5 | 5 | 5 | 5 | 5 | 5 | 3 | 3 | 3 | 6 | 7 | 5 |
| Erdara (gaztelania/frantsesa) | 79 | 80 | 78 | 76 | 77 | 75 | 90 | 91 | 90 | 72 | 72 | 73 |

Ondoko sektore-diagrametan haurtzaroan erabili zen lehenengo hizkuntzaren araberako ehunekoak ematen dira; hau da, euskara (urdina), biak (gorria) eta gaztelania edo frantsesa (horia) erabili zuen pertsona kopurua.

Hain zuzen ere, diagrametan lurralde-eremu hauek agertzen dira: Euskal Herria, Euskal AE, Iparraldea eta Nafarroa. Baina ez daude ordena horretan.

Zure zeregina, beraz, hauxe da: jarri diagrama bakoitzari dagokion lurralde-eremuaren izena eta gero azaldu zergatik aukeratu duzun.



Lurralde-eremua:

.....

.....

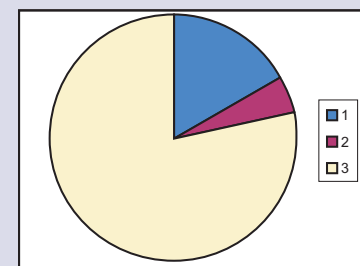
.....

.....

.....

.....

.....



Lurralde-eremua:

.....

.....

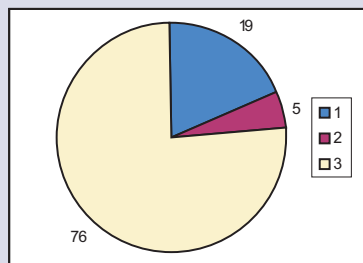
.....

.....

.....

.....

.....



Lurralde-eremua:

.....

.....

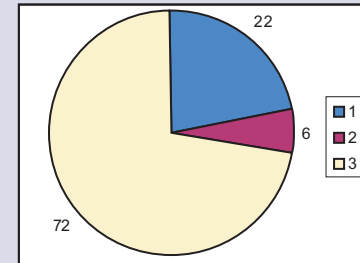
.....

.....

.....

.....

.....



Lurralde-eremua:

.....

.....

.....

.....

.....

.....

.....